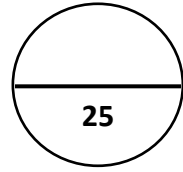




اختبار الشهر الثاني في مادة الرياضيات

الصف الثالث

الفصل الدراسي الثاني / العام الدراسي (2026/2025)




التاريخ: / / 2026

الاسم:

السؤال الأول : أجد ناتج القسمة باستخدام القسمة الطويلة : (12 علامة)

$$\sqrt[3]{31}$$


$$\sqrt[2]{37}$$




$$\sqrt[2]{26}$$

$$\sqrt[6]{28}$$

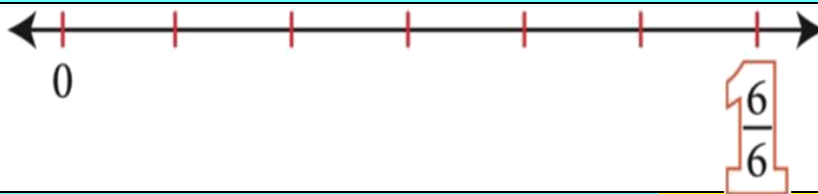
السؤال الثاني : أكتب الكسر الذي يمثل الجزء الملون : (4 علامات)



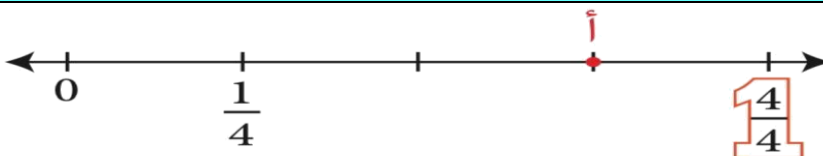


السؤال الثالث : أمتل الكسر على خط الأعداد : (3 علامات)




$$\frac{2}{6}$$



أكتب الكسر الذي يمثل النقطة (أ) :




السؤال الرابع : أكتب الكسر الذي يمثل عدد الأجزاء الملونة من الكل أو من مجموعة : (3 علامات)




السؤال الخامس : ألون لأمتل الكسر المعطى : (2 علامة)

$$\frac{3}{5}$$



$$\frac{5}{6}$$



السؤال السادس : أحل المسألة الآتية : (علامة)

*اشترى عمر 96 قطعة بيتزا ووزعها بالتساوي على 8 أصدقاء. كم قطعة يحصل كل صديق؟



انتهت الأسئلة ،
مع تمنياتي لكم بالتوفيق والنجاح



