

اختبار الشهر الثاني في مادة الرياضيات

الصف الأول

الفصل الدراسي الأول / العام الدراسي (2024/2025)

التاريخ: / / 2024

الاسم:

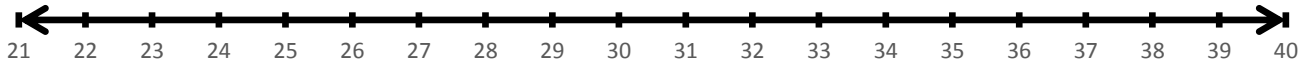
السؤال الأول : أكتب > أو < أو = في ○ : ( 6 علامات )			
91 ○ 91	65 ○ 34	23 ○ 76	
89 ○ 46	45 ○ 54	13 ○ 13	

السؤال الثاني : أكتب > أو < أو = في السؤال الثاني : أحوط التقدير المناسب : ( علامة ) :	
	25
	60

السؤال الثالث : اكتب العدد بالصورة التحليلية : ( 3 علامات ) :	
54 = _____ + _____	
87 = _____ + _____	
40 = _____ + _____	
السؤال الرابع : أرتب الأعداد الآتية تصاعدياً وتنزلياً : ( 3 علامات ) :	

78 ، 65 ، 43 _____ ، _____ ، _____	<u>تصاعدياً</u>
41 ، 48 ، 52 _____ ، _____ ، _____	<u>تنزلياً</u>

**السؤال الخامس: أستخدم خط الأعداد لأكتب العدد السابق والعدد التالي والعدد الواقع بين عددين : ( 3 علامات):**

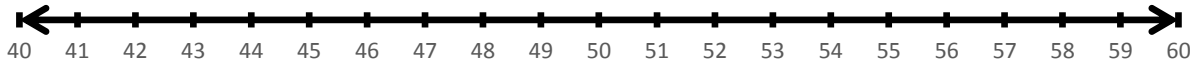


\_\_\_\_\_ ، 23                      \_\_\_\_\_ ، 31

29 ، \_\_\_\_\_                      35 ، \_\_\_\_\_

21 ، \_\_\_\_\_ ، 23                      30 ، \_\_\_\_\_ ، 32

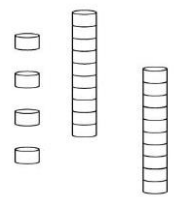
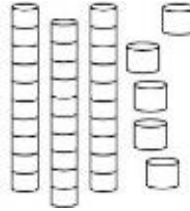
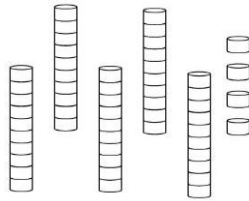



**أستخدم العد القفزي لأكتب الأعداد المناسبة في الفراغ : ( علامتان ) :**



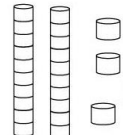
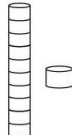
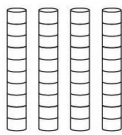
42 ، 44 ، \_\_\_\_\_ ، \_\_\_\_\_

40 ، 45 ، \_\_\_\_\_ ، \_\_\_\_\_

**السؤال السادس : أصل بخط بين العدد و النموذج المناسب : ( 4 علامات )**



**السؤال السابع : اكتب عدد الآحاد وعدد العشرات : ( 3 علامات ):**



عشرات

آحاد

\_\_\_\_\_

عشرات

آحاد

\_\_\_\_\_

عشرات

آحاد

\_\_\_\_\_

انتهت الأسئلة ، مع تمنياتي لكم بالتوفيق والنجاح ، ، معلمة المادة / أفنان أبو شمط