



بنك الأسئلة في الوحدة السادسة (وحدة الضرب)


الصف الثاني

الفصل الدراسي الثاني / العام الدراسي (2026/2025)


التاريخ: / / 2026

الاسم:

السؤال الأول : أصف كلا من المجموعات المتساوية الآتية :



مجموعات في كل منها



مجموعات في كل منها




السؤال الثاني : أستعمل الجمع المتكرر لأجد ناتج الضرب :




$$\text{---} + \text{---} + \text{---} + \text{---} =$$

$$\text{---} \times \text{---} =$$

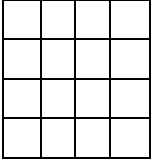


$$\text{---} + \text{---} + \text{---} + \text{---} =$$

$$\text{---} \times \text{---} =$$

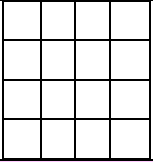


السؤال الثالث : ألون الشبكة ، ثم أجد ناتج الضرب :



4 صفوف في كل منها 3

$4 \times 3 = \underline{\quad}$




3 صفوف في كل منها 4

$3 \times 4 = \underline{\quad}$

السؤال الرابع : أحل المسألة الآتية :




تقرأ سماح 3 صفحات من قصة كل يوم ، كم صفحة من القصة تقرأ في 4 أيام؟








السؤال الأول : أكتب جملة الضرب المناسبة : (6 علامات)



$\underline{\quad} \times \underline{\quad} = \underline{\quad}$



$\underline{\quad} \times \underline{\quad} = \underline{\quad}$



$\underline{\quad} \times \underline{\quad} = \underline{\quad}$



السؤال الأول : أجد ناتج الجمع :

$643 + 54 = \underline{\hspace{2cm}}$

$438 + 36 = \underline{\hspace{2cm}}$

$720 + 217 = \underline{\hspace{2cm}}$

$621 + 199 = \underline{\hspace{2cm}}$

أجد ناتج الجمع ذهنيًا :

$438 + 40 = \underline{\hspace{2cm}}$

$521 + 48 = \underline{\hspace{2cm}}$

$655 + 42 = \underline{\hspace{2cm}}$

