



بنك الأسئلة في الوحدة التاسعة (وحدة الكسور)

(أول 5 دروس)

الصف الثالث

الفصل الدراسي الثاني / العام الدراسي (2026/2025)

التاريخ: / / 2026

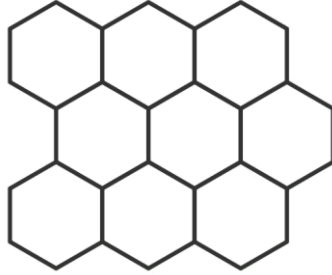
الاسم:

السؤال الأول : ألون لأمثل الكسر المعطى :

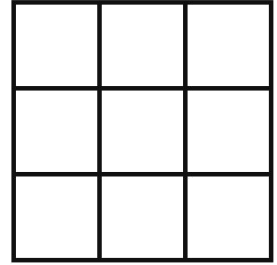
$$\frac{1}{4}$$



$$\frac{5}{9}$$





$$\frac{2}{9}$$




السؤال الثاني : أكتب الكسر الذي يمثل عدد الأشياء الصفراء :









السؤال الثالث : أكتب الكسر الذي يمثل عدد الأجزاء الملونة من الكل أو من مجموعة :

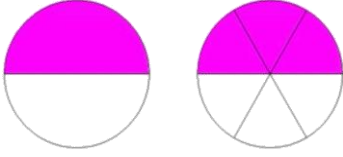









السؤال الرابع : أضع الرقم المناسب في لأحصل على كسرين متكافئين مستعملا النماذج :

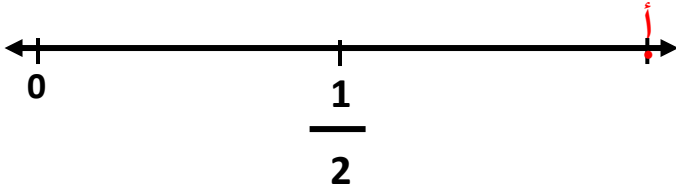


$$\frac{1}{2} = \frac{\square}{\square}$$

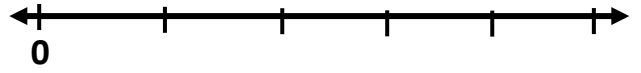


$$\frac{2}{4} = \frac{\square}{\square}$$

السؤال الخامس : أحل بحسب المطلوب :



* أكتب الكسر الذي يمثل النقطة (أ) :



* أمثل الكسر على خط الأعداد : $\frac{5}{5}$

انتهت الأسئلة ،
مع تمنياتي لكم بالتوفيق
والنجاح

معلمة المادة

أفنان أبو شمط



