



بنك الأسئلة للوحدة الثانية في مادة الرياضيات

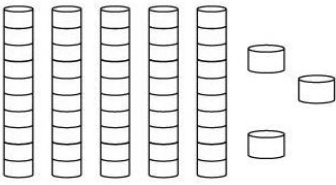
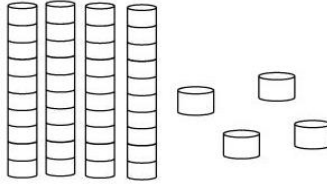
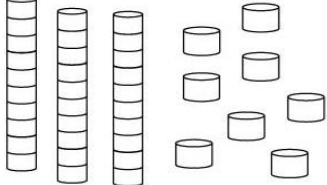
الصف الأول

الفصل الدراسي الأول / العام الدراسي (2025/2024)





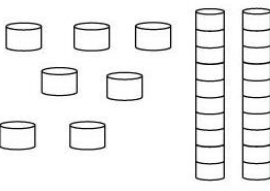
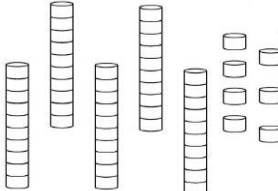
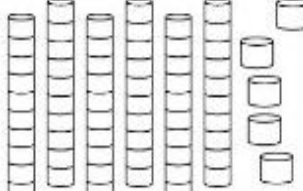
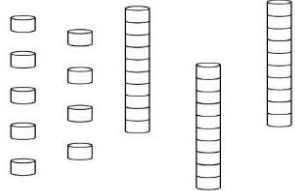
التاريخ: / / 2024

الاسم:

السؤال الأول : اكتب عدد الآحاد وعدد العشرات :

		
<div>عشرات</div> <div>آحاد</div> <div>_____</div>	<div>عشرات</div> <div>آحاد</div> <div>_____</div>	<div>عشرات</div> <div>آحاد</div> <div>_____</div>

السؤال الثاني : أصل بخط بين العدد والنموذج المناسب له :

السؤال الثالث : اكتب العدد بالصورة التحليلية:

$$62 = \underline{\hspace{2cm}} + \underline{\hspace{2cm}}$$

$$93 = \underline{\hspace{2cm}} + \underline{\hspace{2cm}}$$

$$80 = \underline{\hspace{2cm}} + \underline{\hspace{2cm}}$$

$$71 = \underline{\hspace{2cm}} + \underline{\hspace{2cm}}$$

السؤال الرابع : ظلل رمز الإجابة الصحيحة فيما يأتي:

8

1	يكتب العدد (أربعة وستون) بالأرقام :	أ	64	ب	46	ج	40
2	عدد عشراته 5 و أحاده 9 هو :	أ	95	ب	59	ج	50
3	القيمة المنزلية للرقم 9 الموجود في العدد 96 هو :	أ	9	ب	90	ج	900
4	عدد يزيد ب 1 على 92 هو :	أ	94	ب	93	ج	91
5	عدد يقل ب 10 عن العدد 35 هو :	أ	15	ب	55	ج	25
6	أحوظ أزواجًا لأجد إذا كان العدد 12 زوجيًا أم فرديًا :	أ	زوجي (ز)	ب	فردي (ف)	ج	زوجي وفردى (ز ف)

انتهت الأسئلة ... مع تمنياتي لكم بالتوفيق والنجاح ... معلمة المادة / أفنان أبو شمس

