



امتحان الشهر الأول في مادة الرياضيات
الصف الأول

الفصل الدراسي الأول / العام الدراسي (2025/2024)

التاريخ: / / 2024

الاسم:

السؤال الأول : أكتب العدد المفقود :



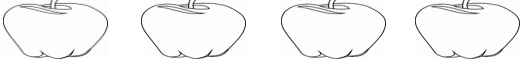


2										
	1			4			7			

السؤال الثاني : ظل رمز الإجابة الصحيحة فيما يأتي:

السؤال الثاني : ظلل رمز الإجابة الصحيحة فيما يأتي:												
8												
1	ترتيب الأرنب في الشكل هو :											
	أ	4		ب	6		ج	5				
2	من مكونات العدد 10 :											
	أ	4		5	ب	3		5	ج	5		5
3	القيمة المنزلية للرقم 6 الموجود في العدد 96 هو :											
	أ	6		ب	60		ج	600				
4	يكتب العدد ثمانية أربعون بالأرقام :											
	أ	48		ب	84		ج	8				
5	عندما لا توجد عصافير في القفص أقول إن عددها :											
	أ	6		ب	0		ج	4				
6	أحدد اتجاه الحركة مستعملاً كلمات :											
	أ	تحت		ب	فوق		ج	يمين و يسار				
7	يدلني على ترتيب موقع الأشياء في الصف هو :											
	أ	العد الترتيبي		ب	أمام		ج	خلف				
8	من مكونات العدد 6 :											
	أ	6		2	ب	6		0	ج	6		3

السؤال الثالث : أعد الأشياء ، وأقرأ العدد ، ثم أكتبه :

5

		1
		2
		3
		4
		5

السؤال الرابع : اكتب العدد بالصورة التحليلية:

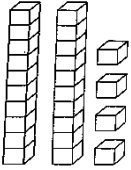
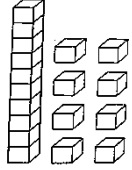
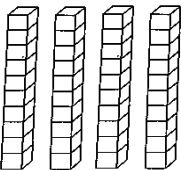
2

$$76 = \underline{\hspace{2cm}} + \underline{\hspace{2cm}}$$

$$32 = \underline{\hspace{2cm}} + \underline{\hspace{2cm}}$$

السؤال الخامس : اكتب عدد الآحاد وعدد العشرات :

3

	عشرات	آحاد		عشرات	آحاد		عشرات	آحاد

انتهت الأسئلة ، ، مع تمنياتي لكم بالتوفيق والنجاح ، ، معلمة المادة / أفنان أبو شمط