








بنك الأسئلة للوحدة الأولى في مادة الرياضيات
الصف الأول
الفصل الدراسي الأول / العام الدراسي (2024/2025)

التاريخ: / / 2024

الاسم:

السؤال الأول : أعد الأشياء ، وأقرأ العدد ، ثم أكتبه :	
<input type="text"/>	1 
<input type="text"/>	2 
<input type="text"/>	3 
<input type="text"/>	4 
<input type="text"/>	5 

السؤال الثاني : أكتب العدد المفقود :

0			3			6			
---	--	--	---	--	--	---	--	--	--

السؤال الرابع : ظلل رمز الإجابة الصحيحة فيما يأتي:

1					الطالب الذي سيصعد الباص في البدايه يكون ترتيبه هو:				
أ		الأول		ب	الثاني		ج	الثالث	
2					كم عصفورًا يوجد في القفص :				
أ		3		ب	7		ج	0	
3					موقع الكرة بالنسبة للطاولة :				
أ		فوق		ب	تحت		ج	خلف	
4					كم عدد الحلزونات الموجودة لدينا :				
أ		7		ب	8		ج	9	

انتهت الأسئلة ... مع تمنياتي لكم بالتوفيق والنجاح ... معلمة المادة / أفنان أبو شمط